




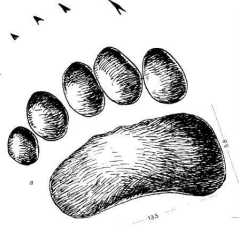

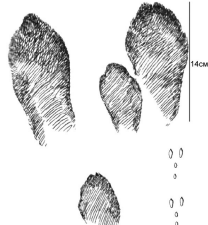


### Вопросы второго тура

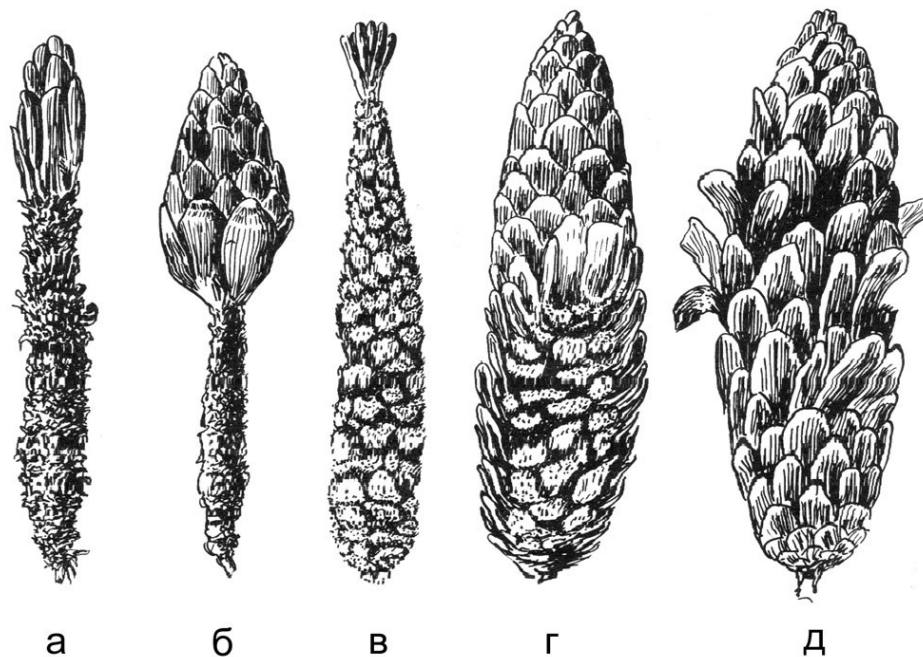
За каждый правильный ответ – 3 балла. За правильные ответы в дополнительных вопросах – каждый правильный вариант ответа 2 балла.

1. Определите, каким животным принадлежат эти следы.

№	Следы	Животное	№	Следы	Животное
1			5		
2			6		
3			7		
4			8		

Вопрос на дополнительные баллы: Кто из них представлен в экспозиции «Природа и Человек» Чувашского национального музея?

2. На рисунке представлены еловые шишки, из которых извлекались семена разными позвоночными. Определите их.



*Вопрос на дополнительные баллы:* Кто из них представлен в экспозиции «Природа и Человек» Чувашского национального музея?